





Colegio Sta. María de la Florida


NT2

Pensamiento Matemático.

 <b>Nombre:</b>	
--	--


 <b>Curso:</b>		 <b>Fecha:</b>	
---	--	---	--

1.- Trabajaremos el número 18. Recuerda, en la bolsita debes dibujar una decena.



\_\_\_\_\_ D + \_\_\_\_\_ U = \_\_\_\_\_

2.- Escribiremos el número 18.



3.- Resuelve los siguientes problemas.

-Mateo tiene 5 monedas y Josefa 4 monedas. ¿Cuántas monedas tienen en total?

-Si tengo 7 manzanas y me como 3. ¿Cuántas manzanas me quedan?