



GUÍA 17 – SÍNTESIS 3

Nombre: _____ Curso: 7° ____ Fecha: _____

En esta oportunidad realizaremos una guía de síntesis, la cual tiene por objetivo conocer el proceso de aprendizaje de los estudiantes respecto a los temas abordados en las guías anteriores (14, 15 y 16).

Este instrumento no es calificado, por lo que es importante que respondas con sinceridad.

Instrucciones:

- Responde las siguientes preguntas de selección única.
- Debes encerrar en un círculo la alternativa que creas correcta.
- Al finalizar, debes traspasar tus respuestas a la tabla que se encuentra en la última página.
- Esa tabla debes enviarla por correo a la profesora encargada del nivel, ya sea en foto, archivo adjunto o en el mismo correo.
- La profesora encargada de 7° básico es Scarlett Valenzuela R. (scarlett.valenzuela@colegiostmf.cl)
- En el asunto del correo se debe mencionar: Asignatura - Curso – Nombre Apellido (CCNN – 7°Z – Tulio Triviño)
- Recuerda que **no es necesario imprimir la guía** para resolverla, puedes escribirla en tu cuaderno y adjuntar una foto de la tabla con las respuestas.
- Si te es más fácil puedes responder la guía de síntesis de manera online, a través del siguiente cuestionario: <https://forms.gle/2PYXHQLzynSYR5oG6>

I. Selección única.

Conteste las siguientes preguntas escribiendo la alternativa correcta en la tabla de respuestas.

1. ¿Cuál de las siguientes características de la sexualidad se relaciona con la dimensión emocional o psicoafectiva?
 - A) El desarrollo de los genitales femeninos y masculinos.
 - B) La aparición de vello corporal y el aumento de estatura de los hombres y mujeres.
 - C) El inicio de la menstruación, entendiendo el proceso biológico que implica.
 - D) La búsqueda de la identidad, que se manifiesta en gustos, expectativas y valores

2. ¿Cuál de los caracteres sexuales que se mencionan a continuación se manifiesta solo en los varones?
 - A) Aumento de la estatura
 - B) Cambios en el tono de voz
 - C) Aparición de vello corporal
 - D) Ensanchamiento de caderas

3. Considerando los siguientes enunciados, ¿cuál de ellos describe completamente al concepto de sexualidad?
 - A) Parte del desarrollo humano y se manifiesta desde etapas tempranas de la vida a través del cuerpo, la forma en que sentimos y que nos relacionamos con el resto.
 - B) Es parte importante solo del pensamiento humano y se manifiesta principalmente por la forma distintiva de pensar que poseen personas de géneros diferentes.
 - C) Considera solo el comportamiento humano y se manifiesta principalmente en la forma en que nos relacionamos solo con otras personas de género distinto.
 - D) Es parte del ser humano y se manifiesta solo durante la pubertad a través de los cambios físicos distintivos que ocurren entre hombres y mujeres.

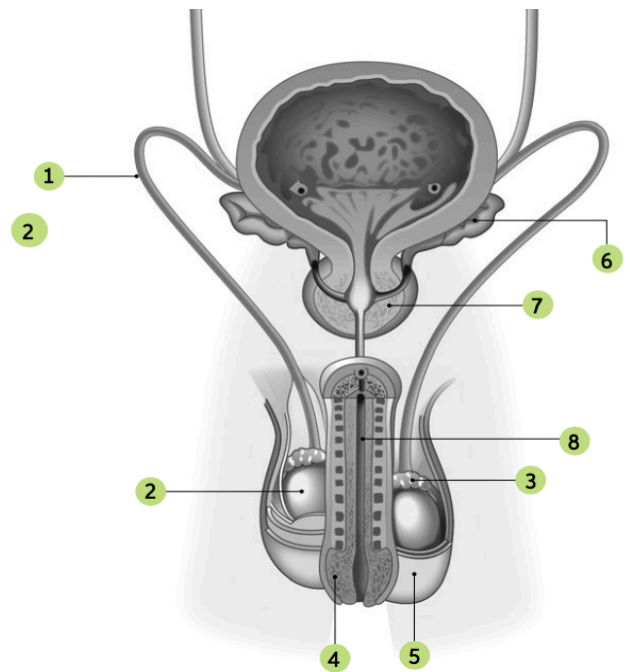
4. La siguiente tabla muestra la edad en que se presentó la menarquia (primera menstruación) a un grupo de 80 mujeres de diferente edad, todas ellas en la etapa de la adultez.

Rango de edad en que se presentó la menarquia	N° de mujeres
9 – 11 años	26
12 – 15 años	31
16 – 18 años	15
sobre los 18 años	8

A partir de la información, ¿qué se puede concluir respecto a la edad en que produce la menarquia?

- A) En todas las mujeres, la menstruación marcó el inicio de la pubertad.
 B) En la mayoría de las mujeres, la primera menstruación ocurrió en la etapa de la infancia.
 C) En la mayoría de las mujeres, la menarquia ocurrió después de los 9 y antes de los 16 años.
 D) En todas las mujeres, la menstruación se presentó hacia el final de la adolescencia.

Observa la siguiente imagen que muestra un corte frontal del sistema reproductor masculino. Luego, responde las preguntas 5 y 6.



5. ¿Qué estructura está señalada con el número 8?

- A) Vejiga
 B) Próstata
 C) Uretra
 D) Testículo

6. ¿Cuál es la función de la estructura número 5 llamada escroto?

- A) Producir líquido seminal.
 B) Almacenar espermatozoides.
 C) Proteger a los testículos.
 D) Conducir la orina y el líquido seminal.

7. La vasectomía consiste en un procedimiento quirúrgico en que se cortan y posteriormente se ligan los conductos deferentes del sistema reproductor masculino. ¿Qué consecuencias tiene este procedimiento en la función reproductiva del hombre?

- A) Interrumpe el flujo de orina desde la vejiga hasta la uretra, generando posibles infecciones.
 B) Interrumpe el transporte de espermatozoides, siendo un método de control de natalidad.
 C) Disminuye la producción del líquido seminal.
 D) Elimina la producción de espermatozoides y orina, por ende es un método reversible.

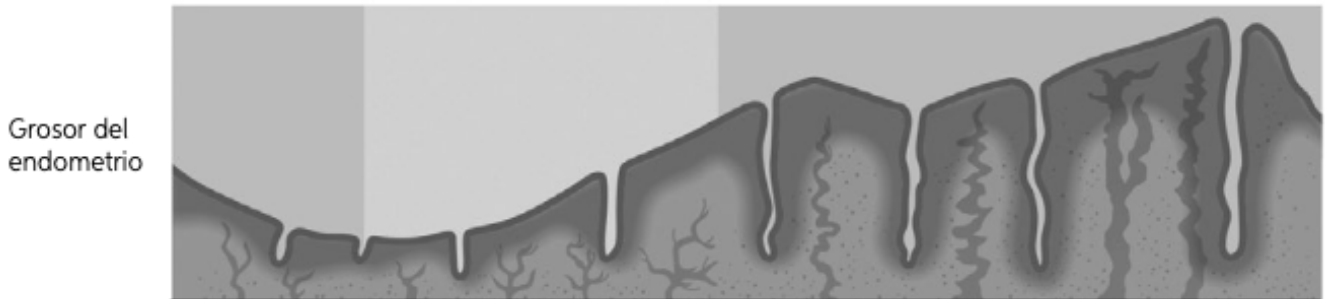
8. “Estructura que permite que un espermatozoide traspase la zona pelúcida del ovocito”, ¿a qué corresponde dicha definición?

- A) Flagelo
 B) Cola
 C) Cabeza
 D) Cuello

9. ¿Cuál de las siguientes oraciones resume lo que es el proceso de fecundación?

- A) Es el proceso en que se expulsan los gametos sexuales, ovocito y espermatozoide.
- B) Proceso en el que se unen los gametos sexuales dando paso a la formación de un cigoto.
- C) Momento donde se une un ovocito con muchos espermatozoides a la vez, permitiendo el ingreso.
- D) Primer evento de la sexualidad donde se elimina el ovocito producto de la reproducción.

10. El siguiente gráfico representa los cambios que ocurren en el endometrio durante el ciclo menstrual.



¿A qué etapa del ciclo corresponden los **primeros 3 a 7 días**?

- A) Menstrual
- B) Proliferativa
- C) Ovulación
- D) Secretora

Lee la siguiente información. Luego, responde las preguntas 11 y 12.

En el calendario están marcados con X los días en que una mujer adulta con un ciclo regular de 28 días tuvo su menstruación.

ENERO						
LU	MA	MI	JU	VI	SA	DO
	1	2	3	4	5	6
7	8	9	10	11	12	13
14	15	16	17	18	19	20
21	22	23	24	25	26	X
X	X	X	31			

FEBRERO						
LU	MA	MI	JU	VI	SA	DO
				1	2	3
4	5	6	7	8	9	10
11	12	13	14	15	16	17
18	19	20	21	22	23	24
25	26	27	28			

11. De acuerdo con esta información, ¿qué día del mes febrero le correspondería la próxima menstruación?

- A) 20 de Febrero
- B) 22 de Febrero
- C) 24 de Febrero
- D) 28 de Febrero

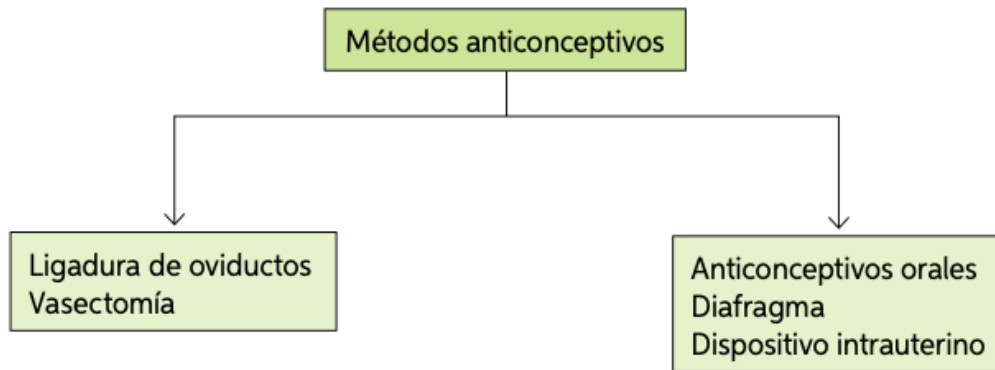
12. Si su día de ovulación es el 9 de febrero, ¿qué día podría quedar embarazada considerando su periodo fértil?

- A) 31 de enero
- B) 1 de febrero
- C) 8 de febrero
- D) 21 de febrero

13. ¿Qué relación método anticonceptivo – clasificación es **correcta**?

- A) Vasectomía – Quirúrgico
- B) Condón femenino – Hormonal
- C) Diafragma – Natural
- D) De la temperatura basal – Artificial

14. Amelia ha investigado sobre los siguientes métodos anticonceptivos: Anticonceptivos orales, ligadura de oviductos, difragma, dispositivo intrauterino y vasectomía. Luego, los ha agrupado de la siguiente manera:



¿Qué criterio de clasificación utilizó Amelia para agrupar los métodos anticonceptivos que investigó? Sin considerar el orden.

- A) Uso interno o externo
- B) Naturales o artificiales
- C) De barrera u hormonales
- D) Reversibles o irreversibles/Semireversibles

15. ¿Qué argumento podría explicar el porqué **los adolescentes no están preparados** para ejercer la maternidad o paternidad responsable?

- A) Tienen la capacidad física para hacerse cargo de un individuo.
- B) Está en construcción la capacidad de asumir y solventar las responsabilidades de un hijo/a.
- C) Solo biológicamente no pueden desarrollar a un organismo pues falta maduración corporal.
- D) Tienen la solvencia económica para sobrellevar los gastos que implica tener un hijo/a.

TABLA DE RESPUESTAS

PREGUNTA	RESPUESTA
Ejemplo	A
1	
2	
3	
4	
5	
6	
7	
8	
9	
10	
11	
12	
13	
14	
15	