



Guía n°7 de reforzamiento clase 1online, Historia, Geografía Y Ciencias Sociales
Terceros Básicos

NOMBRE:	CURSO:
FECHA:	PTJE: /

Indicaciones:

1.- Le informamos a los apoderados que la idea de estas guías es imprimirlas (en lo posible) y guardarlas después de haberlas desarrollado en una carpeta de la asignatura; de no poder imprimir, trabajarlas en el cuaderno con letra clara, consignando el N° de la guía y el N° de la actividad desarrollada, para presentarlas cuando podamos retomar las clases presenciales.

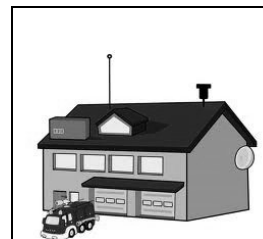





2.- Reiteramos la importancia de ir guardando el material trabajado, ya sea en alguna carpeta o en el cuaderno, según las indicaciones dadas por el profesor.

3.- Para aclarar cualquier duda el correo de los docentes que imparten la asignatura son: anarojaslizama@stmf@gmail.com, claudialillostmf@gmail.com, se atenderán consultas en el horario dado por el colegio : 10:00 a 16:00 horas.

Te invitamos a realizar una prueba en la página aprendo libre para que puedas comprobar tus logros y saber que contenidos debemos reforzar.

I. **SELECCIÓN ÚNICA:** marca la letra de la alternativa correcta.

- Observa el siguiente plano y responde las preguntas 1, 2,3.



1) Al noreste de Pedro se ubica:

- La iglesia.
- EL colegio.
- La estación de bomberos.
- La estación de gasolina.



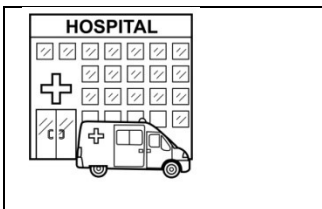



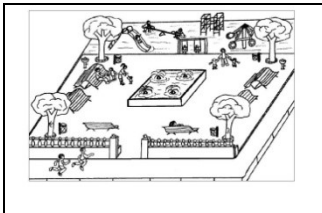
2) Si Pedro necesita ir al hospital debe caminar:

- a) Una cuadra al norte y dos al oeste.
- b) Una cuadra al sur y dos al oeste.
- c) Una cuadra al este y una al sur.
- d) Una cuadra al norte y una al este.

3)Cuál de las siguientes alternativas indica la ubicación de la iglesia:

- a) Se encuentra al sur del hospital.
- b) Se ubica al noreste de la gasolinera.
- c) Se ubica al sureste de la casa de Pedro.
- d) Se ubica al noroeste de la estación de bomberos.

• Observa el plano y responde las preguntas 4, 5 y 6.



4) El cartero debe entregar la correspondencia al hospital ¿Hacia dónde debe caminar?

- a) Al norte.
- b) Al Este.
- c) Al oeste.
- d) Al sur.

5) La dueña de la juguetería debe ir a buscar a su hija a la plaza ¿Cuál es el recorrido correcto que debe seguir?

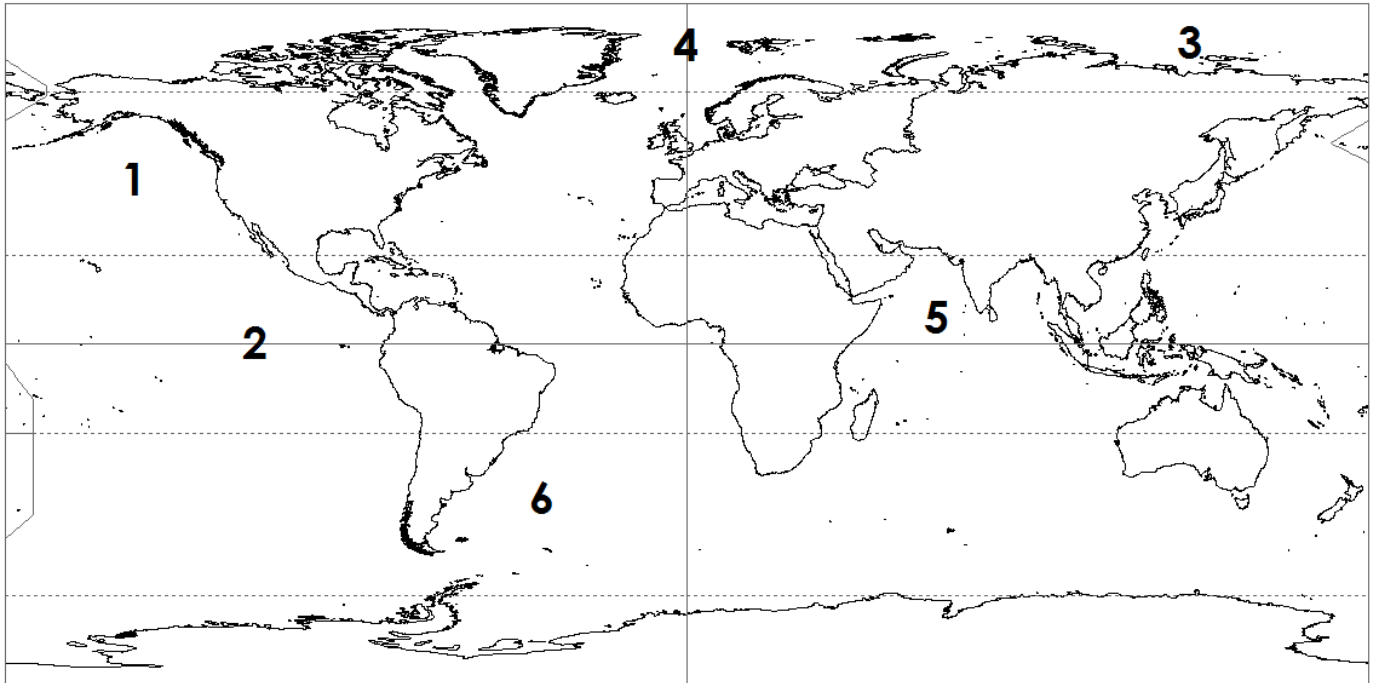
- a) Una cuadra al norte y dos al oeste.
- b) Una cuadra al norte y dos al este.
- c) Una cuadra al sur y dos oeste.
- d) Una cuadra al sur y dos al este.

6) ¿Qué palabra completa correctamente esta oración?

“La casa de Laura se encuentra al _____ del hospital”

- a) Sureste.
- b) Norte.
- c) Noreste.
- d) Noroeste.

- Observa el siguiente planisferio y luego responde las preguntas 7, 8, 9, 10.



7) El N.º 1 indica una zona climática:

- fría
- cálida
- templada
- polar

8) La línea del Ecuador divide a la Tierra en dos hemisferios: Norte y Sur. ¿Con qué número está representada?

- 1
- 2
- 3
- 4

9) El N.º 4 señala el:

- Trópico de Capricornio.
- Círculo Polar Ártico.
- Ecuador.
- Meridiano de Greenwich.

10) La zona fría o polar está representada en el planisferio por el número:

- 6
- 5
- 3
- 1

11) En las zonas más cercanas al Ecuador, se registran las temperaturas más altas de la Tierra porque en esa zona:

- Los rayos solares caen muy inclinados.
- Los rayos solares caen en forma directa.
- Los rayos solares caen semi inclinados.
- Los rayos solares no tocan esa zona de la Tierra.

12) Gabriela recibió una carta de su abuelita que estaba de vacaciones:

...como te decía al comenzar la carta, el clima me ha hecho bien. No hay calores asfixiantes y las tardes son fresquitas. La vegetación es bella, sobre todo en las cercanías del río que visité, pero no es exageradamente abundante...

¿En qué zona climática podría estar la abuelita de Gabriela?

- a) Zona polar.
 - b) Zona fría.
 - c) Zona Templada.
 - d) Zona tropical.
- Lee atentamente los carteles y luego responde las preguntas 13 y 14.

Clima frío y lluvioso
1

Poca vegetación
2

Muchas ciudades.
3

Clima caluroso
4

Clima templado
5




Temperaturas bajas durante todo el año.
6

13) ¿Qué carteles describen a la zona climática fría?

- a) 1 y 6
 - b) 4 y 2
 - c) 3 y 5
 - d) 4 y 3
- 14) Los carteles 3 y 5 corresponden a características de la zona climática:
- a) Fría.
 - b) Tropical.
 - c) Templada.
 - d) Polar.

- Observa la siguiente cuadrícula y responde las preguntas 15 y 16.

NORTE

	1	2	3	4	5	6	7	8
A								
B								
C								
D								
E								
F								
G								
H								

15) ¿En qué coordenadas se encuentra el avión?

- a) C6 - C8
- b) B2 - B3
- c) F7 - G7
- d) B3 - B4

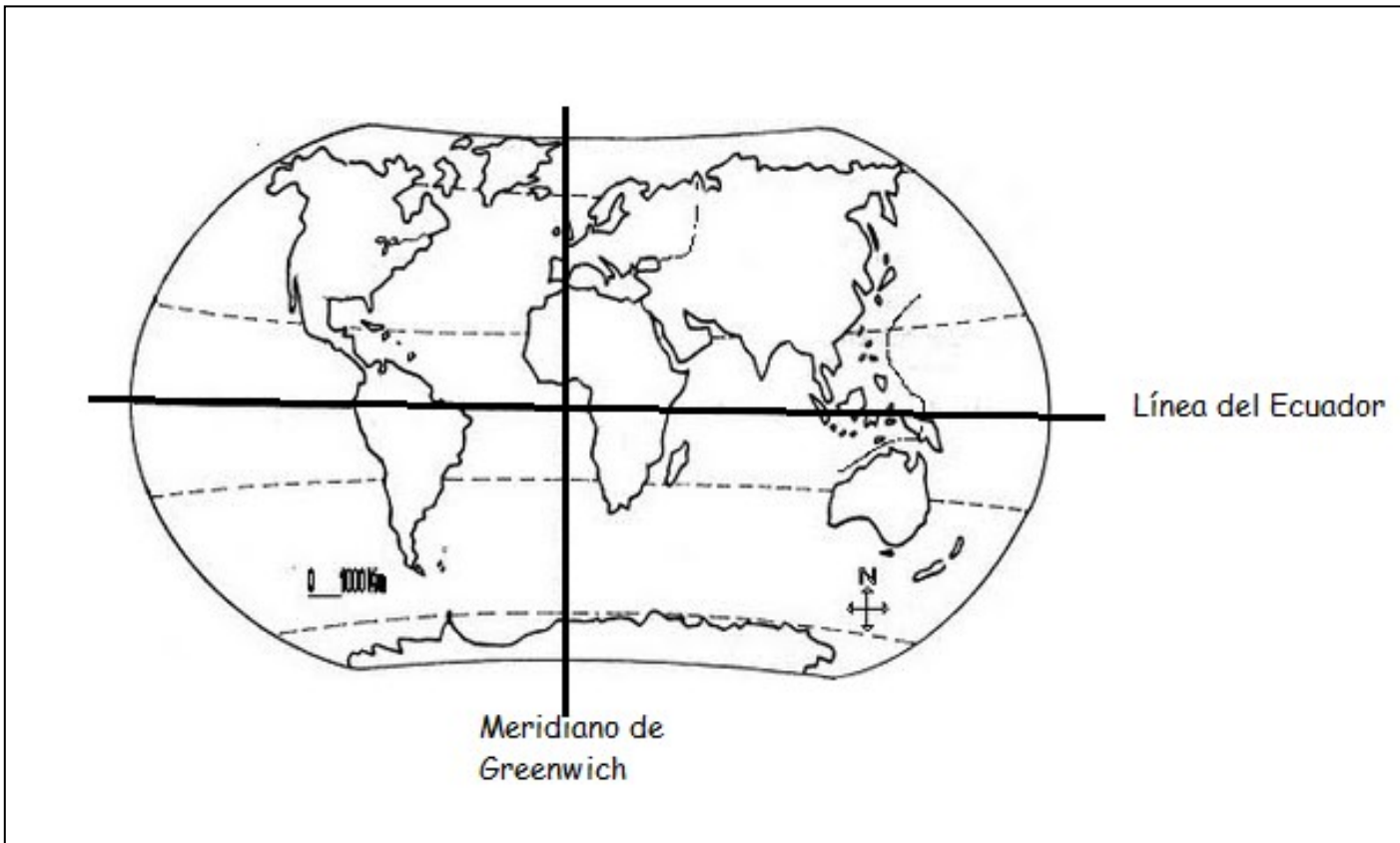
16) Si tuvieras que usar los puntos cardinales para señalar la posición en la cuadrícula del automóvil, ¿qué dirías?

- a) Se ubica al norte.
- b) Se ubica al suroeste.
- c) Se ubica al sureste.
- d) No se puede saber.

17) Es el paralelo más importante. Divide la superficie terrestre en hemisferio norte y hemisferio sur. Nos referimos a:

- a) Las líneas imaginarias.
- b) Al meridiano de Greenwich.
- c) La línea del Ecuador.
- d) Al trópico de Cáncer.

- Observa el planisferio y responde las preguntas 18 y 19.



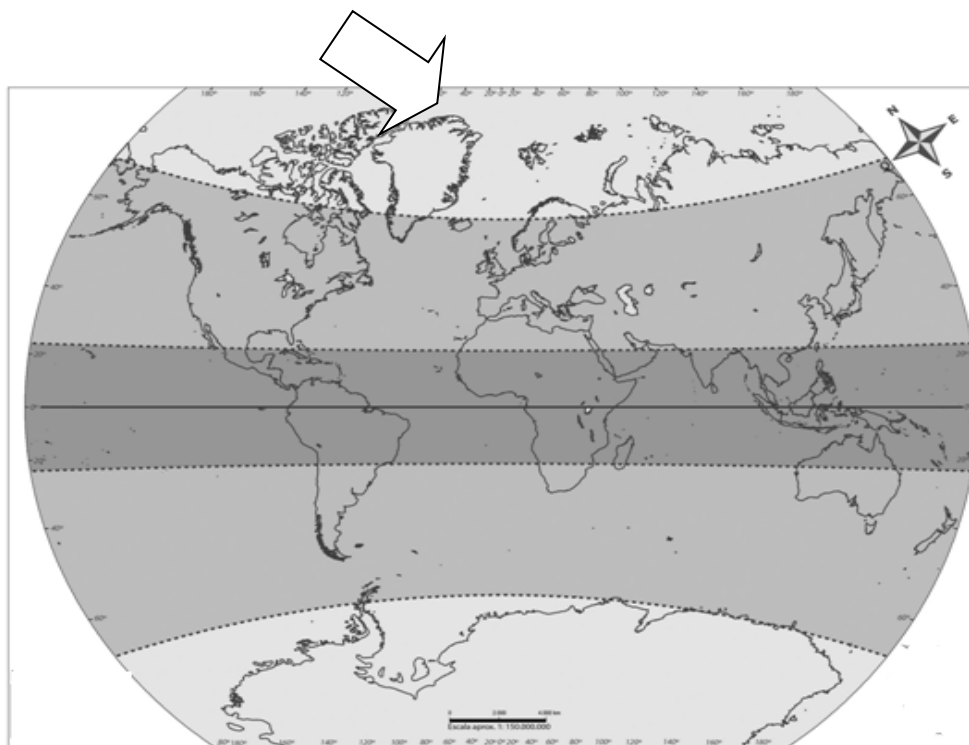
18) ¿Qué afirmación sobre la ubicación de los continentes es verdadera?

- Europa se encuentra al sur del trópico de Cáncer.
- América se encuentra al oeste del Meridiano de Greenwich.
- Asia se encuentra al sur de la línea del Ecuador.
- Oceanía se encuentra al norte de la línea del Ecuador.

19) ¿Qué continentes atraviesa la línea del Ecuador?

- Europa y Asia.
- América y Oceanía.
- África y Europa.
- América y África.

- Observa la imagen y responde las preguntas 20,21,22,23,24.



20) ¿A qué zona climática corresponde el área que señala la flecha?

- a) Fría.
- b) Cálida.
- c) Templada.
- d) Tropical.

21) ¿Qué características tienen los climas de esa zona?

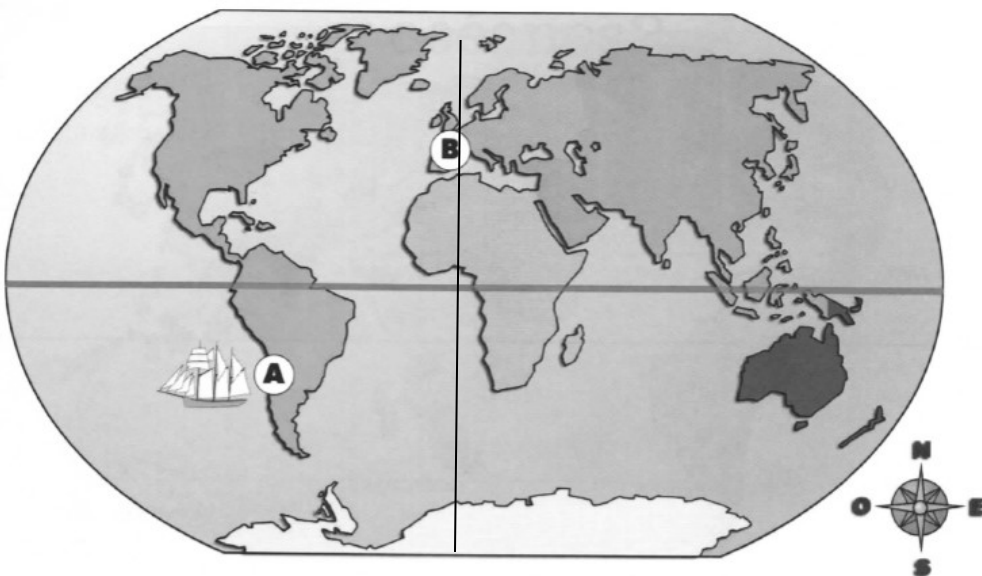
- a) Cuatro estaciones bien diferenciadas.
- b) Vegetación abundante.
- c) Altas temperaturas todo el año.
- d) Bajas temperaturas todo el año.

22) ¿En qué zona climática se encuentra la mayor parte de nuestro país?

- a) Fría
- b) Cálida.
- c) Templada.
- d) Polar.

23) “Zona del planeta donde vive la mayor parte de la población mundial. Posee un clima agradable y se suceden las cuatro estaciones del año”. Nos referimos a la zona:

- a) Polar.
- b) Templada.
- c) Cálida.
- d) Fría.



24) ¿En qué hemisferio se encuentra el barco?

- a) Norte.
- b) Oeste.
- c) Nororiental.
- d) Suroccidental.

25) ¿Dónde se ubica el punto B?

- a) Al norte de la línea del Ecuador.
- b) Al sur de la línea del Ecuador.
- c) Al este de la línea del Ecuador.
- d) No se puede determinar.

26) El barco viaje desde el punto A al punto B. ¿En qué dirección debe desplazarse el barco?

- a) Noroccidental.
- b) Suroriental.
- c) Suroccidental.
- d) Nororiental