



Escuela Básica Particular N.º 890
Santa María-La Florida

GUÍA N°5 PARA FINALIZAR UNIDAD 1, Historia, Geografía y C. Sociales

Nombre:

Curso: Tercer año básico _____ **Fecha:**

Puntaje Obtenido: _____ puntos.

Importante:

1. Luego de imprimir y realizar la guía, debes guardarla en una carpeta.
2. En el caso de no poder imprimir, la puedes realizar en el cuaderno de historia, utilizando letra clara y ordenada.
3. Para aclarar cualquier duda puedes comunicarte a través del correo de la profesora claudialillostmf@gmail.com (Desde 10:00 hasta las 13:00).
4. Para profundizar estos contenidos puedes apoyarte de la plataforma, **debes realizar una prueba en aprendo libre para ver tus avances** www.aprendolibre.cl

Objetivos cumplidos al término de la unidad.

OA6: Ubicar personas, lugares y elementos en una cuadrícula, utilizando líneas de referencia y puntos cardinales.

OA7: Distinguir hemisferios, Círculo del Ecuador, trópicos, polos y océanos del planeta en mapas y globo terráqueo.

OA8: Identificar y ubicar en mapas las principales zonas climáticas del mundo, y dar ejemplos de distintos paisajes que pueden encontrarse en estas zonas y de cómo las personas han elaborado diferentes estrategias para habitarlos.

I.-Encierra en un círculo la letra que indica la alternativa correcta.

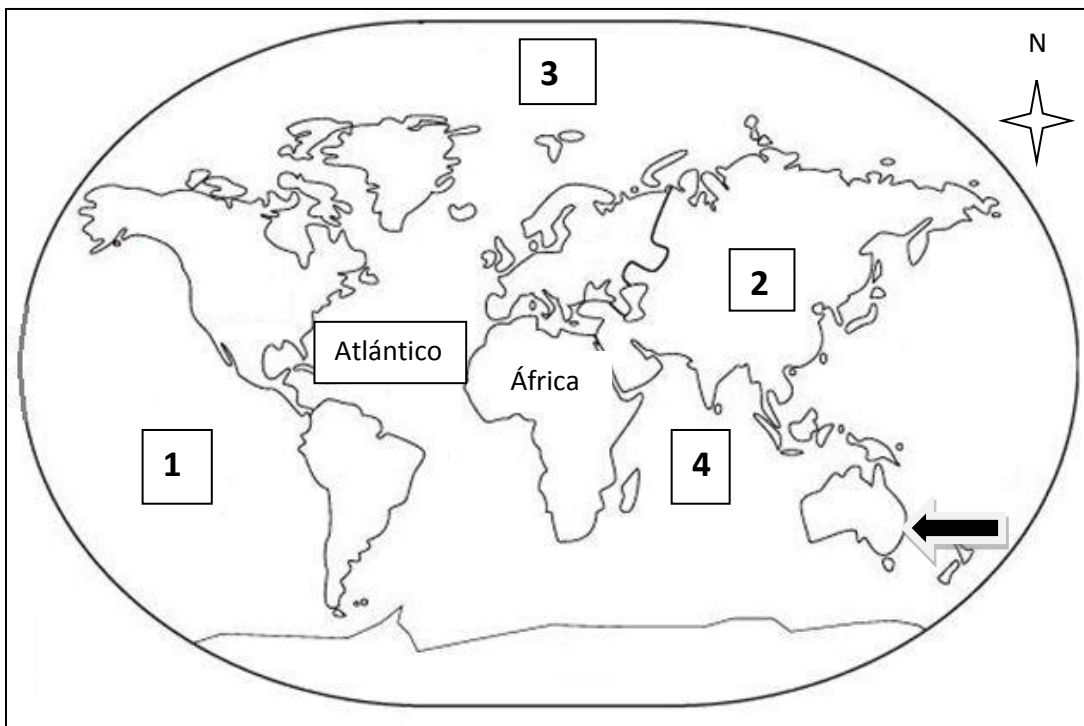
1.- ¿Qué son los **continentes**?

- a) Son grandes masas de aguas.
- b) Son pequeñas masas de agua.
- c) **Son grandes extensiones de tierra.**
- d) Son pequeñas extensiones de tierra.

2.- ¿En qué continente se ubica Chile?

- a) Asia.
- b) Europa.
- c) África.
- d) América.

Observa el siguiente planisferio y responde las preguntas 3,4,5,6,7



3.- ¿Qué océano se ubica en el número **1** del planisferio?

- a) Océano Índico.
- b) Océano Pacífico.
- c) Océano Austral.
- d) Océano glacial Ártico.

4.- ¿Qué continente nos indica la flecha en el planisferio?

- a) El continente más pequeño.
- b) El continente más grande.
- c) El continente de Oceanía.
- d) A y C son correctas.

5.- ¿Qué océano ubicarías en el número **4** del planisferio?

- a) Océano Austral.
- b) Océano Índico.**
- c) Océano Pacífico.
- d) Océano glacial Ártico.

6.- ¿Qué nombre tiene el Océano indicado con el número **3**?

- a) Glacial Ártico.**
- b) Austral.
- c) Glacial Antártico.
- d) Antártica.

7.-El continente indicado con el número **2** en el planisferio es:

- a) América.
- b) Asia.**
- c) Europa.
- d) Antártica.

8.- ¿Qué Océano se encuentra entre América y África?

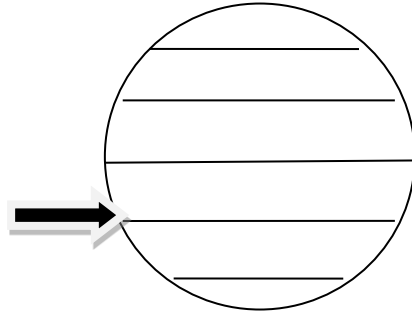
- a) Océano Pacífico.
- b) Océano Índico.
- c) Océano Austral.
- d) Océano Atlántico.**

9.-Es la línea imaginaria más importante. Divide a la Tierra en dos Hemisferios: Norte y Sur. Nos referimos a:

- a) Círculo Polar Ártico.
- b) Trópico de Capricornio.
- c) Línea del Ecuador.**
- d) Trópico de Cáncer.

10.-La línea destacada con la flecha ➡ en la imagen corresponde a:

- a) Línea del Ecuador
- b) Círculo Polar Ártico
- c) Trópico de Cáncer
- d) **Trópico de Capricornio**



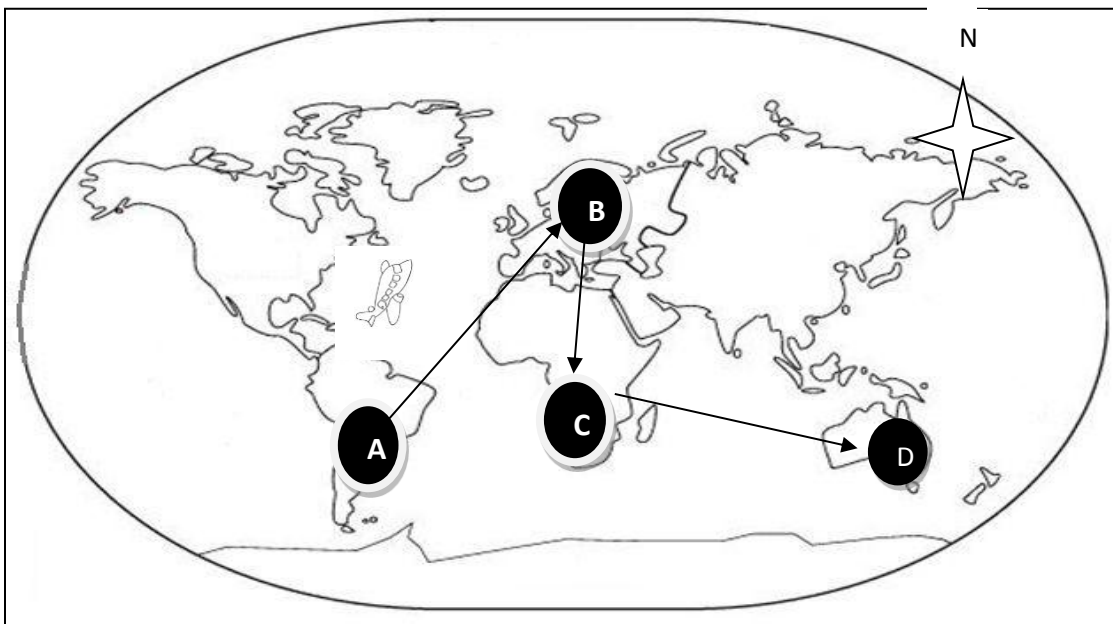
11.-La Tierra gira en torno a una línea imaginaria llamada:

- a) Círculo Polar Antártico.
- b) Círculo Polar Ártico.
- c) **Eje Terrestre.**
- d) Línea del Ecuador.

12.- ¿En qué parte de la Tierra se encuentra el Círculo Polar Ártico y el Trópico de Cáncer?

- a) Hemisferio Oeste.
- b) Hemisferio Sur.
- c) **Hemisferio Norte.**
- d) Hemisferio Este.

Observa el siguiente plan de vuelo de las Aerolíneas Peteca representado en el Planisferio y responde las preguntas 13,14,15



13.- ¿Qué **océanos** cruza Aerolíneas Peteca a lo largo de su recorrido?

- a) Océano Pacífico y Atlántico.
- b) Océano Atlántico e Índico.**
- c) Océano Glacial Ártico y Pacífico.
- d) Océano Glacial Antártico e Índico.

14.- ¿Cuál es el **orden correcto** de los continentes por los cuales pasa el recorrido de las Aerolíneas Peteca?

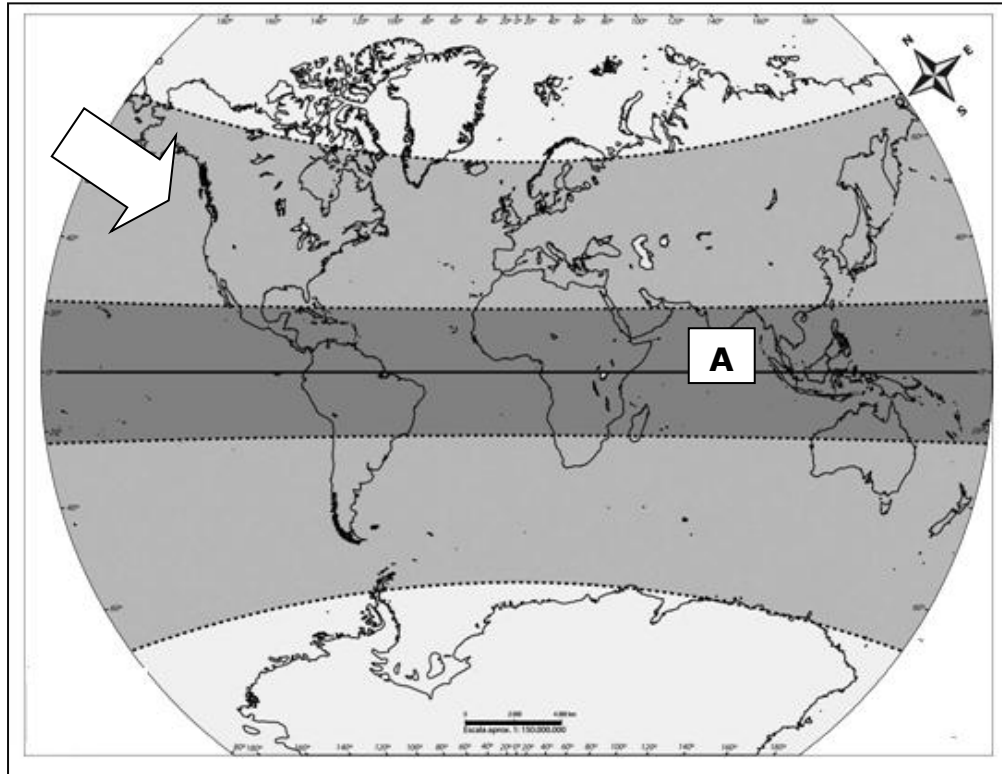
- a) América – Europa – África – Oceanía.**
- b) Asia - África – Oceanía – América.
- c) Antártica – África – América – Asia.
- d) Europa – América – Asia – Oceanía.

15.- ¿Con qué **continentes** completarías las líneas (____) para que la oración sea verdadera?

El avión inicia su recorrido desde _____ y su destino final es_____.

- a) Europa – Oceanía
- b) América – África
- c) América – Oceanía**
- d) África – Oceanía

- **Observa la imagen y responde las preguntas 16,17,18,19.**



16.- ¿A qué zona climática corresponde el área que señala la flecha?

- a) Fría.
- b) Templada.**
- c) Cálida.
- d) Tropical.

17.- ¿Qué características tienen los climas de esa zona?

- a) Cuatro estaciones bien diferenciadas.**
- b) Vegetación abundante.
- c) Altas temperaturas todo el año.
- d) Bajas temperaturas todo el año.

18.- ¿En qué zona climática se encuentra la mayor parte de Chile?

- a) Fría
- b) Cálida.
- c) Templada.**
- d) Polar.

19.- ¿Qué zona climática nos indica la letra **A** en el Planisferio?

- a) Cálida.**
- b) Templada.
- c) Fría.
- d) De Alta Montaña.

20.- La **Zona Climática cálida** se ubica entre:

- a) El Círculo Polar Ártico y el Trópico de Cáncer.
- b) La Línea del Ecuador y el Trópico de Cáncer.
- c) La Línea del Ecuador y el Trópico de Capricornio.
- d) Las alternativas b y c son correctas.**

21.- ¿En qué zona climática encontramos este paisaje?




- a) Fría.
- b) Templada.**
- c) Cálida.
- d) Polar.

22.-El paisaje anterior es un:

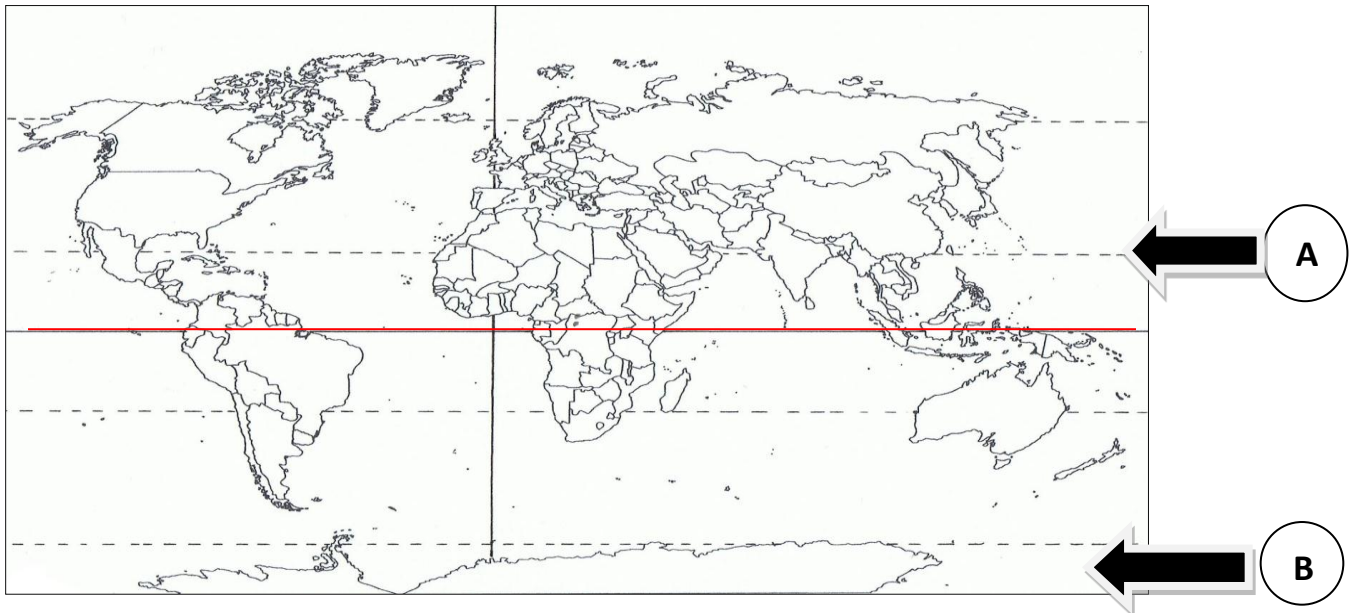
- a) Paisaje de Selva.
- b) Paisaje marítimo.
- c) Paisaje de otoño.**
- d) Paisaje de sabana.

23.- ¿En qué zona climática vivirá esta familia?



- a) Zona tropical
- b) Zona polar
- c) Zona cálida**
- d) Zona templada

Observa y aplica las instrucciones en el Planisferio:



Completa las preguntas:

24.- ¿Qué línea indica la flecha **A**?

_____ **Trópico de cáncer** _____

25.- ¿En qué hemisferio se encuentra y como se llama la zona climática indicada con la flecha **B**?

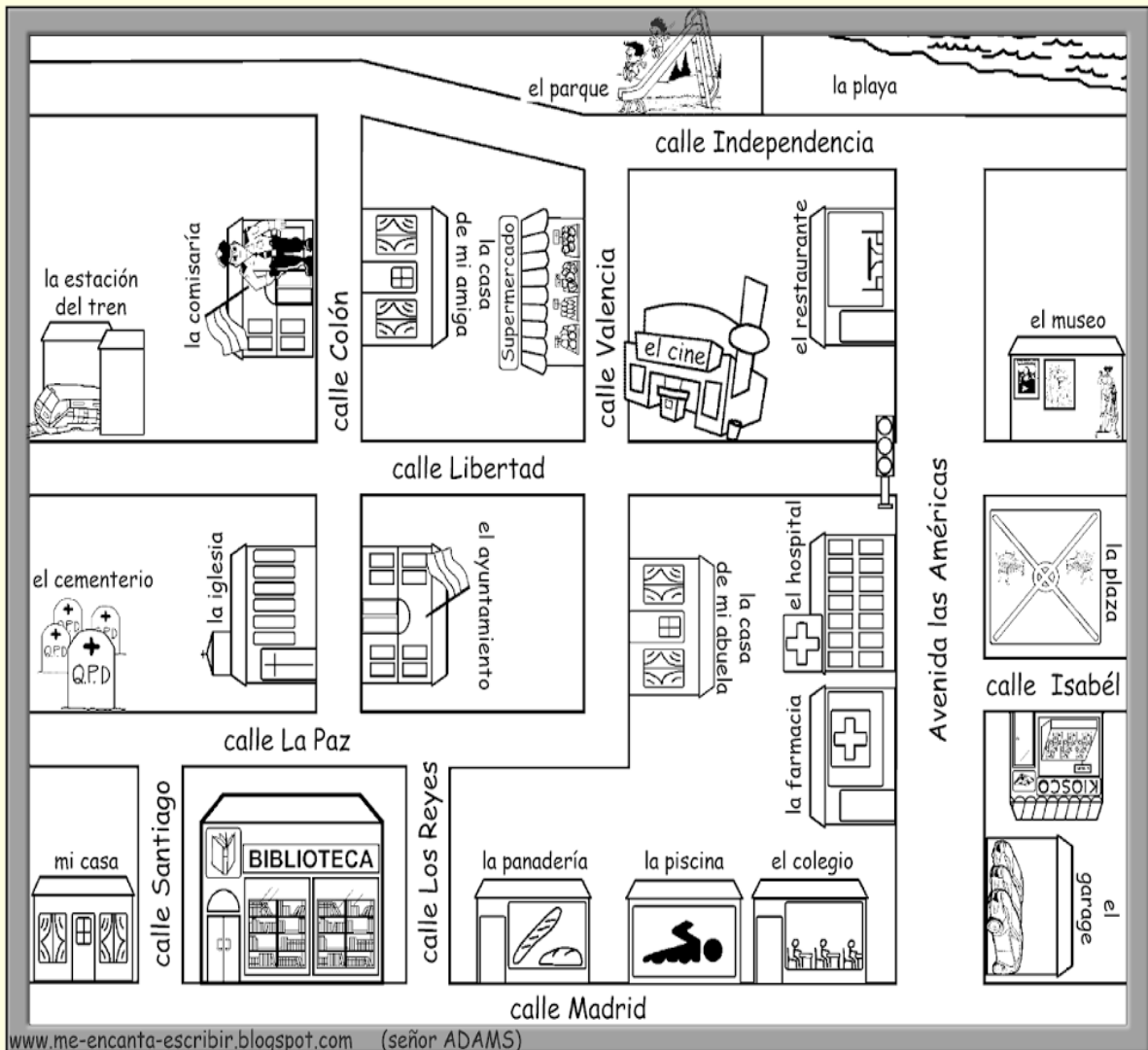
Hemisferio sur, zona fría.

26.-Pinta de color **rojo** las Zonas Climáticas Cálidas.

27.-Pinta de color **azul** las Zonas Climáticas Polares.

28.-Pinta de color **verde** las Zonas Climáticas Templadas

OBSERVA LAS CALLES DE LA CIUDAD Y LUEGO RESPONDE LAS PREGUNTAS.



Caminando por la ciudad.

Observa el plano de esta ciudad y responde a las preguntas.

1. ¿Dónde está la piscina?

Al Oeste del colegio y al Este de la panadería

2. ¿Dónde está el ayuntamiento?

Al Este de la iglesia

3. ¿Dónde está el cine?

Al Oeste del restaurant más específico (Suroeste) y Al este del supermercado o Sureste

4. ¿Dónde está la farmacia?

Al sur del hospital y al norte del colegio

5. ¿Qué hay detrás de la iglesia?

Al Oeste de la iglesia, detrás está el cementerio

6. ¿Por dónde paso cuando voy al colegio?

Camino 2 cuadras hacia el Este y paso por la biblioteca, la panadería y la piscina.

7. ¿Cómo voy desde mi casa hasta la casa de mi amiga?

Calle Santiago(1 cuadra) hacia el Norte, calle la paz(media cuadra) hacia el Este y calle Colón al Norte(casí 2 cuadras)

8. Estoy en la casa de mi amiga. ¿Qué tengo que hacer para ir a la comisaría?

Cruzar la calle Colón hacia el Oeste.

9. ¿En qué calle está la estación del tren?

Al Oeste de la Calle Libertad

10. ¿Qué hay alrededor de la plaza?

Al Norte de la plaza está el museo, Al Oeste está el hospital y al Sur hay un kiosco.

