

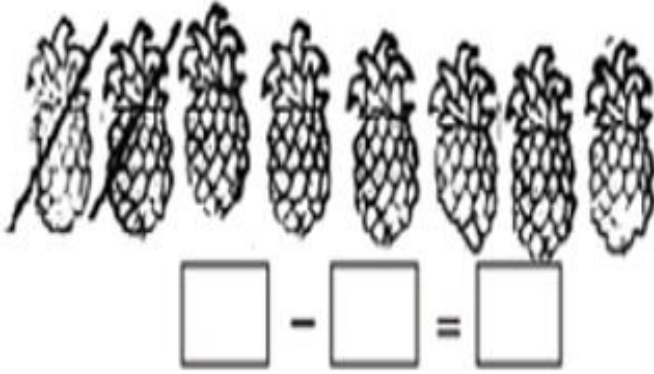
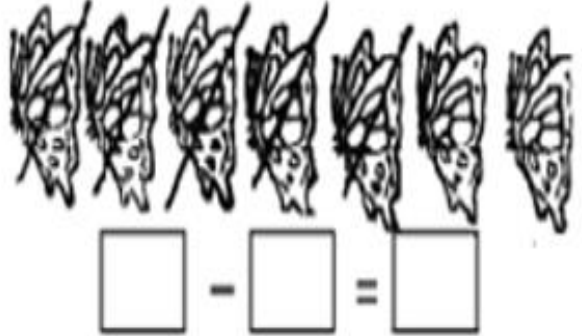
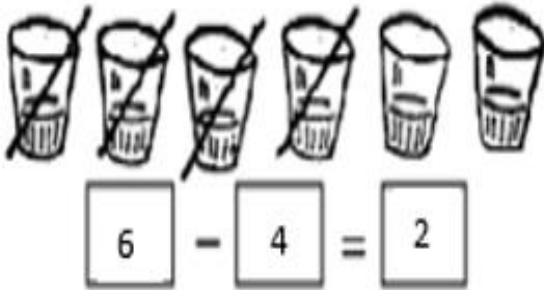




Guía de trabajo n°9 Matemática Primero Básico

Actividades clase n° 1

1) Cuenta, completa y resuelve.




2) Une cada resta con su resultado (utiliza lápices de colores).

3 - 1	3	4 - 4	4
4 - 1	2	5 - 3	2
7 - 2	6	6 - 4	0
9 - 3	5	5 - 2	3

Actividades clase nº 2

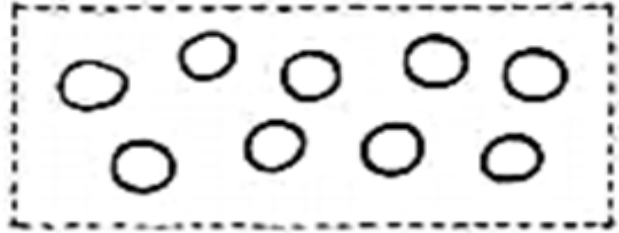
1) Dibuja, tacha y completa.

$8 - 5$



$\boxed{8} - \boxed{5} = \square$

$9 - 3$



$\square - \square = \square$

$6 - 4$



$\square - \square = \square$

$4 - 2$



$\square - \square = \square$

$5 - 1$



$\square - \square = \square$


$7 - 2$



$\square - \square = \square$


2) Responde:

¿Cuántas manzanas más que peras hay?







$\boxed{5} - \boxed{2} = \boxed{3}$

¿Cuántos perros más que gatos hay?



$\square - \square = \square$

<p>¿Cuántos lápices más que sacapuntas hay?</p>  <p><input type="text"/> - <input type="text"/> = <input type="text"/></p>	<p>¿Cuántos conejos más que zanahorias hay?</p>  <p><input type="text"/> - <input type="text"/> = <input type="text"/></p>
<p>¿Qué diferencia hay entre la cantidad de mariposas y de flores?</p>  <p><input type="text"/> - <input type="text"/> = <input type="text"/></p>	<p>Hay 8 peces. Hay 4 algas menos que peces. ¿Cuántas algas hay?</p>  <p><input type="text"/> - <input type="text"/> = <input type="text"/></p>

Actividades clase n° 3

- 1) Realiza las páginas 22 a 25 del cuadernillo.
- 2) Realiza las páginas 58 a 66 del texto del estudiante.



- Responde y escribe el signo que corresponde.

• Tenía 6 magdalenas y se me cayeron 2. ¿Cuántas magdalenas tengo ahora?



=

• Lalo tenía 10 galletas y le regaló 3 a su mamá. ¿Cuántas galletas le quedan al Lalo?



=

¿Cuántas estrellas más que soles hay?

