

¿CUÁLES SON LOS PAISAJES Y RECURSOS DE NUESTRO PAÍS?

Nombre:

Curso:

Fecha:

Objetivo de Aprendizaje 9

Caracterizar las grandes zonas de Chile y sus paisajes (Norte Grande, Norte Chico, Zona Central, Zona Sur y Zona Austral) considerando ubicación, clima (temperatura y precipitaciones), relieve, hidrografía, población y recursos naturales, entre otros.

El carácter de sistema del medio natural hace que haya variaciones, transformando así diferentes y variados **paisajes naturales** (húmedos, áridos o costeros, entre otros).

De esta forma, nuestro territorio nacional además de tener ciudades y regiones, presenta una importante **diversidad de paisajes**, la cual se caracteriza por la amplitud de nuestro país de Norte a Sur. Eso quiere decir que según la zona geográfica donde nos encontremos, visualizaremos distintos paisajes, por ejemplo en la **zona norte** veremos mucho desierto, un clima caluroso y poca vegetación. A diferencia de la **zona Sur**, un paisaje con abundante flora y fauna, de clima muy lluvioso y frío.

Por lo tanto, es importante caracterizar las zonas de nuestro país, los tipos de paisajes y las riquezas que estas presentan en sus recursos naturales y actividad económicas asociadas.



¿SABÍAS QUÉ?

Chile con más de 4000 kilómetros de longitud, es el país más largo del mundo, en el territorio nacional tenemos el desierto más árido y los paisajes más australes.

¡ANTES DE COMENZAR!

¿Qué paisajes conoces de Chile?
¿Cuál es tu favorito? ¿Por qué?

GUÍA N° 3

ACTIVIDADES

- I. Relaciona los siguientes conceptos con sus definiciones, asignando el número en el círculo que corresponda.

Clima	Recursos Naturales	Paisaje
1	2	3

Bienes materiales y servicios que proporciona la naturaleza sin alteración por parte del ser humano.



Es la extensión de un terreno que se observa desde un determinado lugar y que estará conformado por las características naturales del entorno.



Conjunto de condiciones atmosféricas propias de un lugar, constituido por la cantidad y frecuencia de lluvias, la humedad, la temperatura, los vientos, etc.



- II. Lee la siguiente fuente y responde.

Fuente 1

Zona Norte

Zona norte de nuestro país, la mayor parte del año hace mucho calor y llueve poco, se caracteriza por sus paisajes áridos, donde se impone un inmenso desierto rodeado de cerros de colores. El clima es desértico por lo que hay muy pocas plantas y animales. Encontramos cactus, tamarugos y llaretas, llamas, vizcachas, vicuñas y chinchillas.

Fuente: <https://www.portaleducativo.net>

- A. ¿Qué características de zona norte se describe en la **fuente 1**?

- B. ¿Cómo afecta el clima a la vida cotidiana de la población local?

GUÍA N° 3

III. A partir de las características de cada zona natural, completa el siguiente cuadro comparativo.

	Clima (Cálido, Templado, Frío, Polar)	Recursos Naturales	¿Dónde es mejor vivir y por qué?
Zona Norte Grande			
Zona Sur			
Zona Austral			

GUÍA N° 3

IV. Observa las siguientes imágenes de paisajes de nuestro país y responde.

A. Identifica la zona natural (norte grande, norte chico, zona central, zona sur y zona austral) a la que corresponde cada imagen.

1




Zona Natural:

2



Zona Natural:

3




Zona Natural:

4



Zona Natural:

5



Zona Natural:

B. Selecciona una zona natural y describe su paisaje de acuerdo a la imagen.

GUÍA N° 3


- V. Cada una de las 5 Zonas Naturales de Chile tienen **VENTAJAS Y DESVENTAJAS PARA QUE LOS HABITANTES PUEDAN VIVIR EN ELLAS**. En la siguiente tabla escribe las ventajas y desventajas de cada una de estas zonas naturales en relación a la población, además debes representar cada una de las zonas naturales con una imagen.

Zona Natural	Ventajas	Desventajas


GUÍA N° 3

6. Dibuja los paisajes naturales de las siguientes Zonas de Chile, donde se puedan ver las CARACTERÍSTICAS DEL RELIEVE Y EL CLIMA

Zona Norte Grande



Zona Sur



GUÍA N° 3

7. Ahora Dibuja un paisaje de tu región donde se muestren las características del relieve y el clima.

Nombre de la Región: _____

Clima: _____

Relieve: _____

